

DS n° 15 : Test produit scalaire et Cercle (30 min)

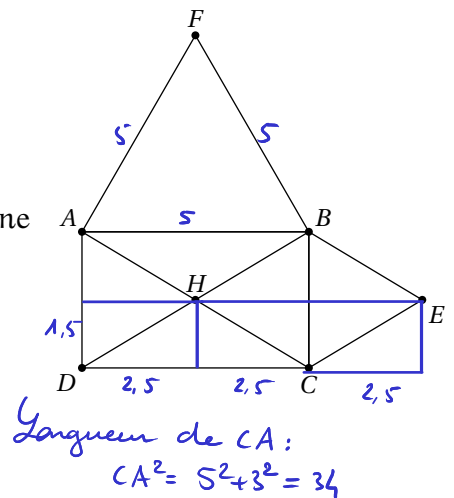
I (4 points)

La figure ci-contre représente

- Un rectangle ABCD tel que $AB = 5$ et $BC = 3$;
- Un triangle ABF équilatéral.
- E est le symétrique de H par rapport à (BC).

Calculer les produits scalaires suivants; vous complétez la copie (aucune justification n'est demandée).

- $\overrightarrow{CD} \cdot \overrightarrow{CE} = -5 \cdot 2,5 = -12,5$
- $\overrightarrow{CH} \cdot \overrightarrow{CA} = \sqrt{34} \cdot \sqrt{34} \cdot \frac{1}{2} = 17$
- $\overrightarrow{AB} \cdot \overrightarrow{BE} = 12,5$
- $\overrightarrow{CH} \cdot \overrightarrow{AB} = -5 \cdot 2,5 = -12,5$
- $\overrightarrow{BE} \cdot \overrightarrow{BA} = -12,5$
- $\overrightarrow{DH} \cdot \overrightarrow{CE} = DH^2 = \left(\frac{\sqrt{34}}{2}\right)^2 = \frac{17}{2}$
- $\overrightarrow{BC} \cdot \overrightarrow{BF} = BC \cdot BF \cdot \cos\left(\frac{\pi}{6}\right) = 3 \cdot 5 \cdot \left(-\frac{\sqrt{3}}{2}\right) = -\frac{15\sqrt{3}}{2}$
- $\overrightarrow{AF} \cdot \overrightarrow{DC} = 5 \cdot 2,5 = 12,5$



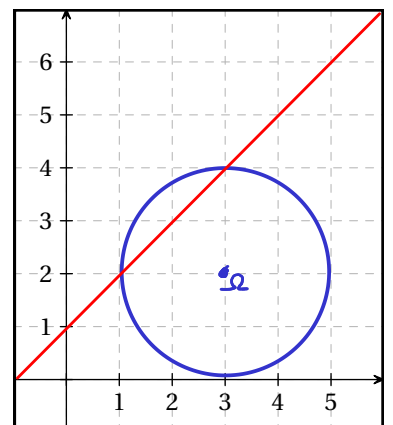
II (1 point) Soit les points $A(-5; -2)$, $M(1; -3)$, $T(-1; 2)$, $H(0; 8)$. les droites (MA) et (TH) sont-elles perpendiculaires?

III (1 point) Soit $\mathcal{C} : x^2 + 3x + y^2 - 4y = 0$.
S'il s'agit d'un cercle, précisez son centre et son rayon.

IV (3 points)

Soit \mathcal{C} le cercle de centre $\Omega(3; 2)$ et rayon 2.

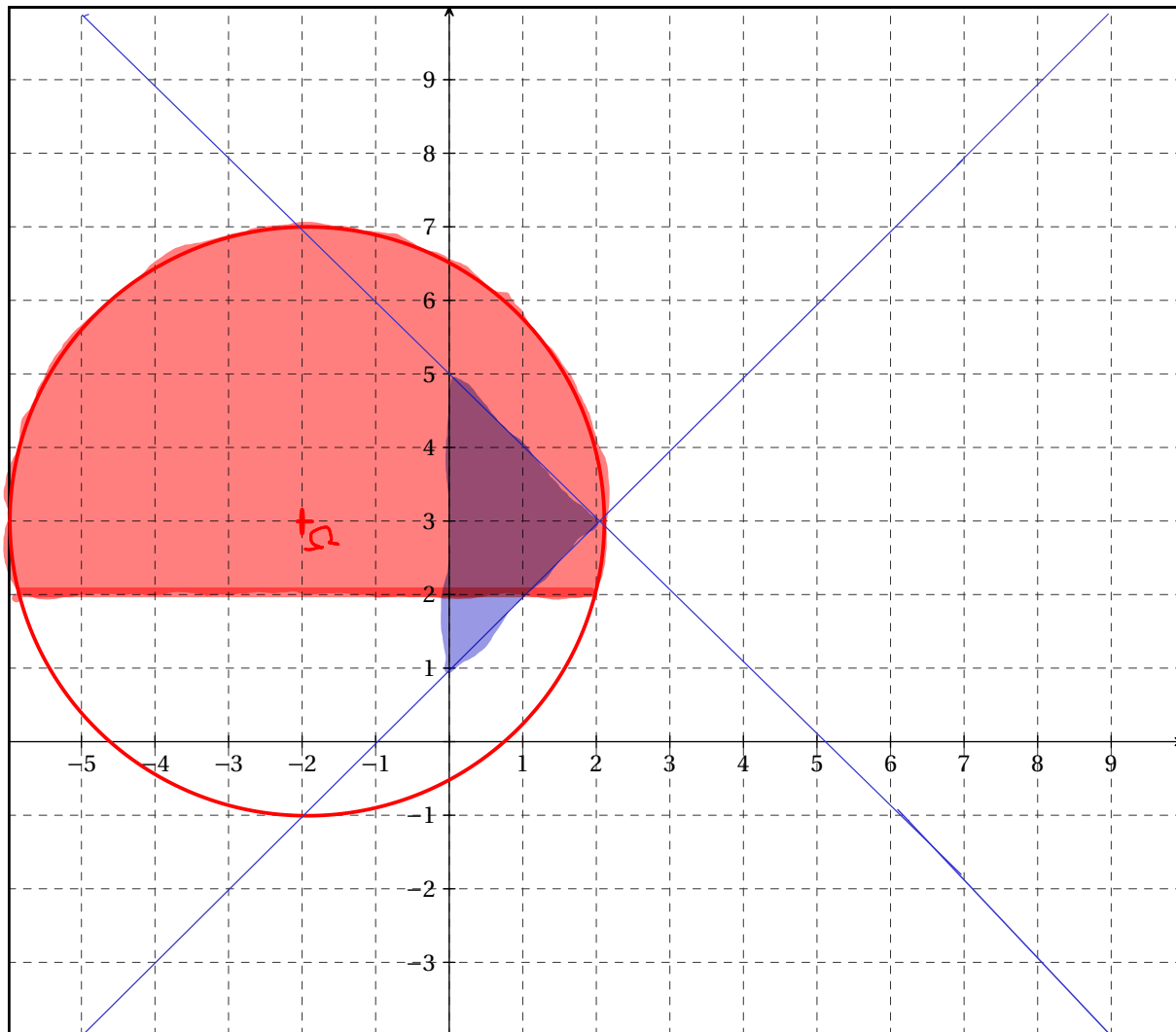
1. Déterminer une équation cartésienne de \mathcal{C} puis tracer \mathcal{C} sur le graphique ci-contre.
2. Soit $\mathcal{D} : y = x + 1$
 - a) Représentez \mathcal{D} sur le graphique.
 - b) Déterminez les coordonnées des points d'intersection de \mathcal{C} et \mathcal{D}



Ⓟ (1 point)

1. \mathcal{F} l'ensemble des points tels que $\begin{cases} y > 2 \\ (x+2)^2 + (y-3)^2 \leq 16 \end{cases}$

2. \mathcal{G} l'ensemble des points tels que $\begin{cases} y \geq x+1 \\ y \leq -x+5 \\ x \geq 0 \end{cases}$



DG 15.

II $A(-5, -2); H(1, 3); T(-1, 2); H(0, 8)$

On a $\vec{HA} \begin{pmatrix} -6 \\ 1 \end{pmatrix}$ et $\vec{TH} \begin{pmatrix} 1 \\ 6 \end{pmatrix}$ alors $\vec{HA} \cdot \vec{TH} = 0$

donc $\vec{HA} \perp \vec{TH}$ et $(HA) \perp (TH)$

III $x^2 + 3x + y^2 - 4y = 0$

$$\Leftrightarrow \left(x + \frac{3}{2}\right)^2 - \left(\frac{3}{2}\right)^2 + (y - 2)^2 - 4 = 0$$

$$\Leftrightarrow \left(x + \frac{3}{2}\right)^2 + (y - 2)^2 = \frac{25}{4}$$

Ainsi \mathcal{E} est un cercle de centre $\Omega\left(-\frac{3}{2}; 2\right)$ et rayon $R = \frac{5}{2}$

IV

1 On a $\mathcal{C}: (x-3)^2 + (y-2)^2 = 4$

Donc $\mathcal{C}: x^2 - 6x + y^2 - 4y + 9 = 0$

2 $M(x, y) \in \mathcal{C} \cap \mathcal{D} \Leftrightarrow \begin{cases} y = x + 1 \\ x^2 - 6x + y^2 - 4y + 9 = 0 \end{cases}$

$$\Leftrightarrow x^2 - 6x + (x+1)^2 - 4(x+1) + 9 = 0 \quad \text{avec } y = x+1$$

$$\Leftrightarrow 2x^2 - 8x + 6 = 0$$

$$\Leftrightarrow x^2 - 4x + 3 = 0$$

$$\Leftrightarrow (x-1)(x-3) = 0 \quad \text{car } x=1 \text{ est racine évidente}$$

$$\Leftrightarrow x=1 \text{ ou } x=3$$

Alors, on a deux points d'intersection: $A(1; 2)$ et $B(3; 4)$