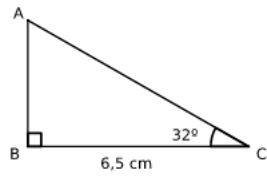


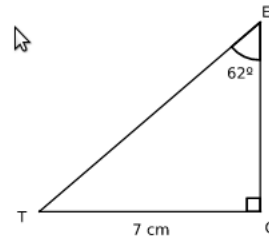
**Exercice 1** Les trois questions sont indépendantes.

1.

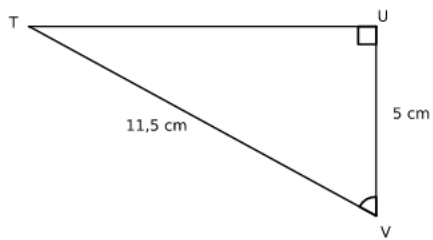


Calculer un arrondi au mm près de  $AB$ .

2. Calculer un arrondi au mm près de  $ET$ .



3.



Calculer un arrondi au degré près de  $\widehat{UVT}$ .